




Carré magique !

Complète les cases vides afin de former un carré magique.

Rappel dans un carré magique la somme de chaque ligne, chaque colonne et chaque diagonale sont égaux.

7	12	1	14	
	13		11	
	3			
9				