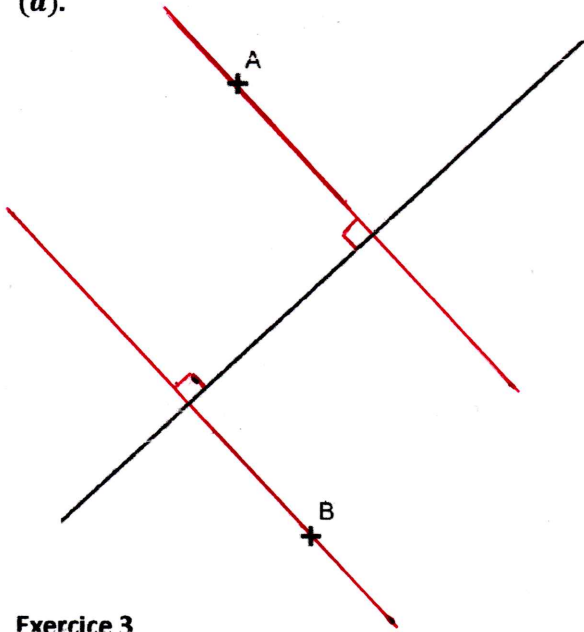
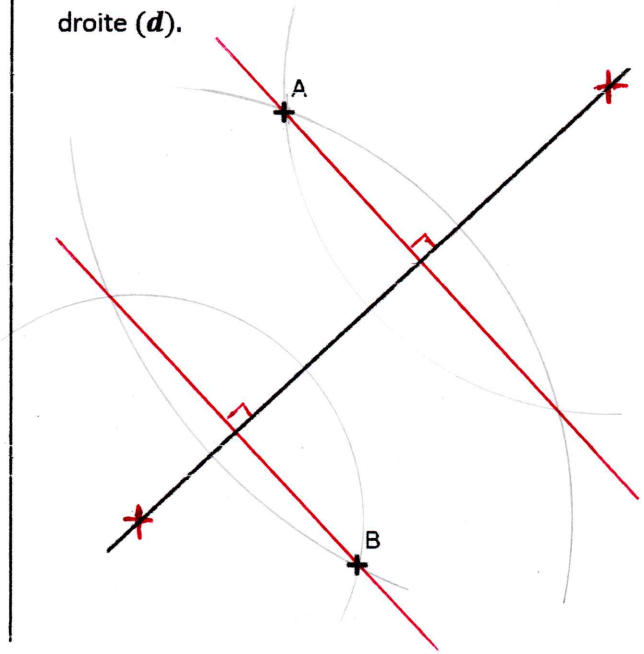


**Exercice 1 :** Avec l'équerre, tracer la droite qui passe par le point  $A$  et qui est perpendiculaire à la droite  $(d)$ .

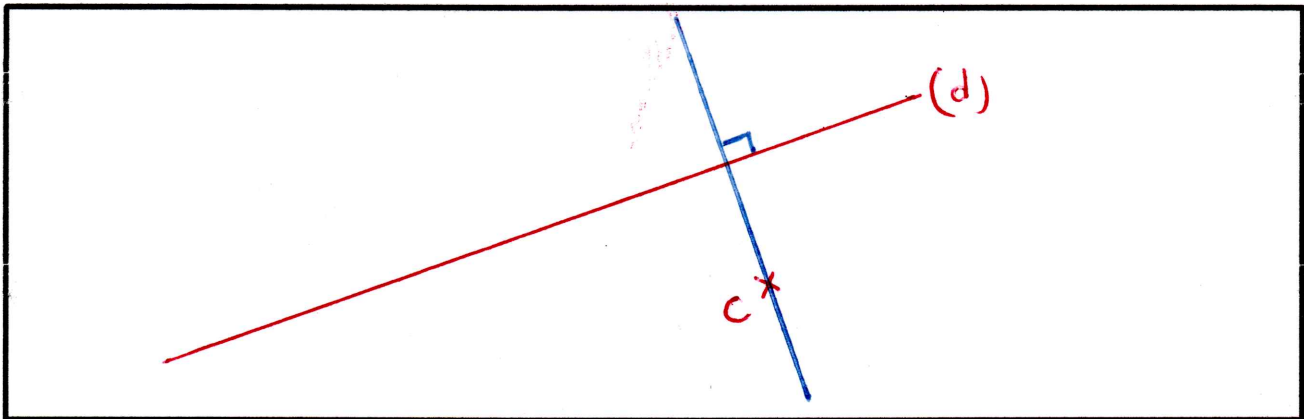


**Exercice 2 :** Avec le compas et la règle, tracer la droite qui passe par le point  $B$  et qui est perpendiculaire à la droite  $(d)$ .



**Exercice 3**

1. Tracer une droite  $(d)$  et placer un point  $C$  n'appartenant pas à  $(d)$ .
2. Avec l'équerre tracer la droite  $(d')$  qui passe par  $C$  et qui est perpendiculaire à  $(d)$ .



**Exercice 4**

1. Tracer une droite  $(d)$  et placer un point  $E$  n'appartenant pas à  $(d)$ .
2. Avec la règle et le compas tracer la droite  $(d')$  qui passe par  $E$  et qui est perpendiculaire à  $(d)$ .

