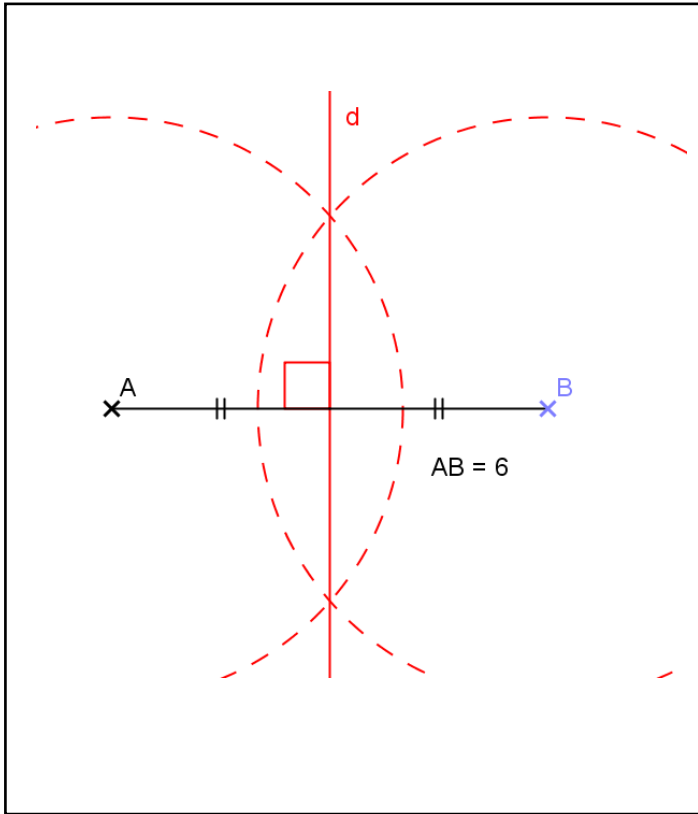
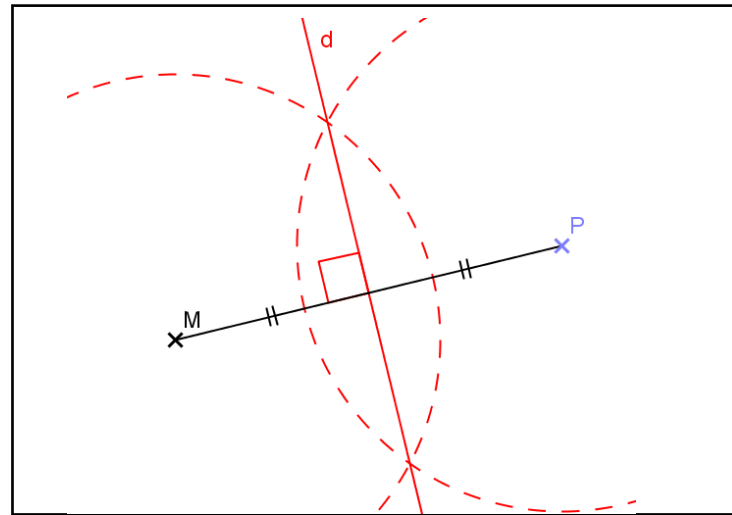


1 a. Sur papier uni, tracer un segment $[AB]$ de longueur 6 cm. Placer son milieu M .

b. Tracer en rouge la médiatrice (d) du segment $[AB]$.

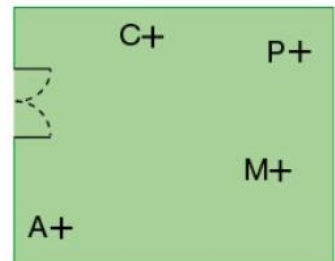


2 Tracer sa médiatrice (d) .



3 Voici le plan d'un parc. Lors d'une chasse aux œufs, Noé a reçu l'indice ci-dessous.

Trouver l'emplacement de cet œuf sur un calque ou une photocopie.



Le premier œuf est caché sur la médiatrice du segment $[AC]$ et sur la droite (MP) .

