

# Habiter New-york

I/ Complétez l'introduction avec les mots suivants.

Visages – quartiers – États-Unis – monde – 22 millions - New-York

Avec près de ..... d'habitants, ..... est la métropole la plus peuplée des ..... et la quatrième du ..... Ses habitants vivent dans des ..... aux ..... très différents.

La problématique : **Comment s'organise l'agglomération de New-York ?**

II/ Comprendre la "variétés des espaces" de la métropole New-yorkaise.



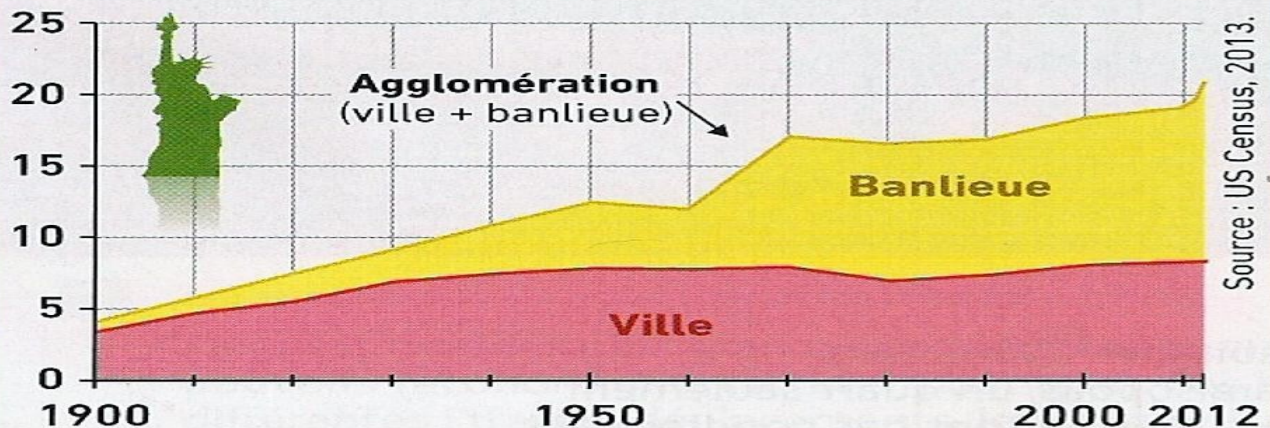
**1 Time Square : le cœur de la métropole**  
Time Square, dans Manhattan, est l'un des quartiers les plus animés de New York avec des commerces, les sièges de grandes entreprises et des salles de spectacles.



- |                                       |                                   |
|---------------------------------------|-----------------------------------|
| <b>1. Une vaste agglomération</b>     | <b>2. Une métropole dynamique</b> |
| ville de New York                     | quartier d'affaires               |
| banlieue                              | bourse                            |
| limite de New York City               | principaux musées                 |
| quartier de New York (arrondissement) | aéroport                          |
|                                       | champ de la photographie p. 203   |

## 2 L'évolution de la population de New York

En millions d'habitants





1. Localisez et situez New York (doc 3 et 4).

.....  
.....

2. Quelles sont les deux parties de son agglomération ?(doc 2 et 3)

.....  
.....




3. Quelle est la prise de vue de la photographie du document.4?

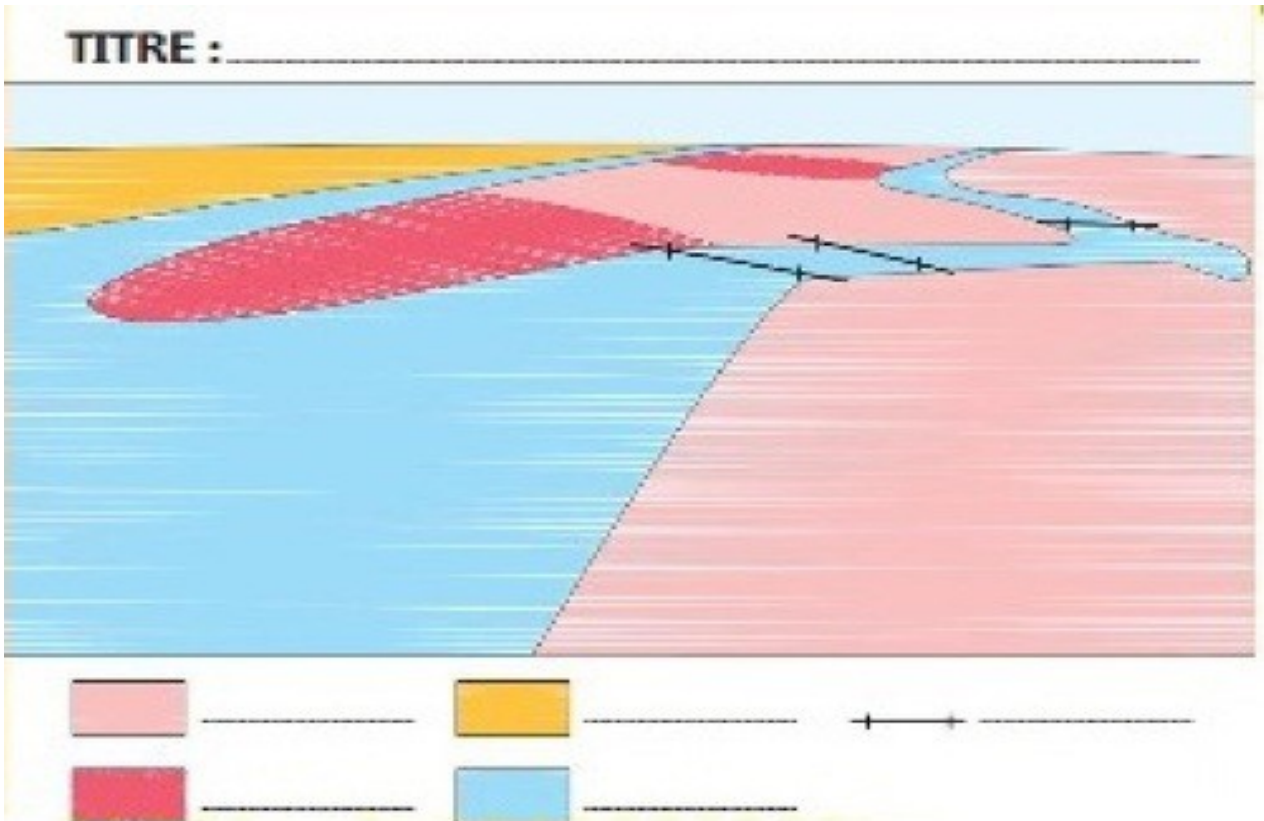
.....  
.....

4. Quels sont les différents types de quartiers visibles sur la photographie ?

.....  
.....  
.....



5. Complétez le croquis du paysage ci-dessus (couleurs, intitulés de légende et titre)  
Complétez à l'aide du document 4



6. Comment a évolué la population de New-York et de sa banlieue depuis 1900 ?  
( voir document.2)

.....  
.....  
.....

7. Qu'est-ce qui distingue l'habitat du centre-ville de New-York de celui de la banlieue ? ( voir les documents 1,4 et 5)

.....  
.....  
.....  
.....  
.....

8/ A l'aide de la définition, montrez que New-York est une métropole.( voir les documents 1,3 et 4)

.....  
.....  
.....  
.....

**III/ Cherchez les définitions suivantes**

**Agglomération :**.....  
.....  
.....

**Banlieue :**.....  
.....  
.....

**Bidonville :**.....  
.....  
.....

**Croissance :**.....  
.....  
.....

**Urbaine :**.....  
.....  
.....

**Espace périurbain** .....

**Exode rural :**.....  
.....  
.....

**Ghetto :**.....  
.....  
.....

**Métropole :** .....

**Quartier d'affaires** .....

**Urbanisation :**.....  
.....  
.....

IV / Coloriez la statue de la Liberté

